

द्वितीय योगात्मक मूल्यांकन (Summative Assessment II)

सत्र- 2019-20

कक्षा - 5

पूर्णांक - 40

विषय - हिंदी/ENGLISH/गणित/पर्यावरण अध्ययन

समय - 3 घंटा

- ❖ सभी प्रश्नों के उत्तर के चार विकल्प दिए गए हैं। निर्देशों को पढ़कर सटीक विकल्प चुनिए और ओ.एम.आर. शीट में संबंधित गोले को भरिए।
- ❖ सभी प्रश्न 1 अंक के हैं।

हिंदी

नीचे दिए गए गद्यांश को पढ़िए और प्रश्न 1, 2 और 3 के उत्तरों के सही विकल्प चुनिए -

"घर के अंदर भी यही हाल है। बीसियों तो चूहे बसते हैं। रात-भर एक कमरे से दूसरे कमरे में भागते फिरते हैं। वह धमा-चौकड़ी मचती है कि हमलोग ठीक तरह से सो भी नहीं पाते। बरतन गिरते हैं, डिब्बे खुलते हैं, प्याले टूटते हैं। एक चूहा अँगीठी के पीछे बैठना पसंद करता है। शायद बूढ़ा है, उसे सरदी बहुत लगती है।"

प्रश्न 1. घर के अंदर कितने चूहे बसते हैं?

- a. दसियों b. बीसियों c. तीसियों d. चालीसों

प्रश्न 2. चूहों की धमा चौकड़ी से क्या होता है?

- a. बरतन गिरते हैं b. बरतन खुलते हैं c. बरतन टूटते हैं d. बरतन जलते हैं

प्रश्न 3. बूढ़े चूहे को कहाँ बैठना पसंद है?

- a. अँगीठी के आगे b. अँगीठी के पीछे c. अँगीठी के अंदर d. अँगीठी के बाहर

नीचे दिए गए पद्यांश को पढ़िए तथा प्रश्न 4, 5 और 6 के उत्तरों के सही विकल्प चुनिए -

"माँ, कह! एक कहानी"

"बेटा, समझ लिया क्या तूने

मुझको अपनी नानी?"

"कहती है मुझसे यह चेटी,

तू मेरी नानी की बेटा!"

प्रश्न 4. कहानी सुनने के लिए कौन कह रहा था?

- a. माँ b. नानी c. बेटा d. बेटा

प्रश्न 5. 'दासी' के लिए किस शब्द का प्रयोग किया गया है?

- a. लेटी b. चेटी c. नानी d. रानी

- प्रश्न 6. "तू मेरी नानी की बेटी!" - इस वाक्य में 'तू' किसके लिए कहा गया है?
 a. बेटी b. बेटा c. माँ d. नानी
- प्रश्न 7. 'सीधी गाय सरपट दौड़ी।' दिए गए वाक्य में कौन-सा शब्द **संज्ञा** है?
 a. सीधी b. गाय c. सरपट d. दौड़ी
- प्रश्न 8. 'तुम कब आए' - इस वाक्य में किस विराम चिह्न का प्रयोग किया जाएगा?
 a. (?) b. (|) c. (,) d. (;)
- प्रश्न 9. 'मुझे चार लीटर दूध दे दो।' - इस वाक्य में **विशेषण** है-
 a. मुझे b. चार c. लीटर d. दूध
- प्रश्न 10. 'बिल्ली दौड़ती है।' - इस वाक्य में 'बिल्ली' का बहुवचन होगा-
 a. बिलारें b. बिल्लों c. बिल्लियों d. बिल्लियाँ

ENGLISH

Read the passage and choose the correct answer of question no. 11, 12 and 13 -

Golu was very excited to use the crutch. He lost his balance in the beginning. But his friends helped him to walk. The school bell rang. But everyone walked slowly with Golu. They reached the school late. Their teacher asked the reason. But, was very happy to know the incident and see the new student.

- Q. 11. What was the reason behind Golu's happiness?
 a. Going to school with friends.
 b. Reached school late.
 c. Not getting help from friends.
 d. The teacher paid attention on Golu.
- Q. 12. Who was new to the school?
 a. Teacher b. Golu c. Golu's friends d. No one
- Q. 13. Identify the **emotion** in the line '**But everyone walked slowly with Golu.**' -
 a. Caring b. Shame c. Pride d. Pity

Read the poem given below and answer the question no. 14, 15 and 16 -

Our mother tongue is Hindi,
 Women wear bangles and bindi.
 We Indians work world-wide,
 For us it is a great pride.

Q. 14 What is our mother tongue?
a. Bindi b. Hindi c. Indian d. Mother

Q. 15. Indians feel pride because-
a. They work everywhere b. They speak Hindi
c. They wear bangles d. They wear bindi.

Q. 16. Who wear bangles?
a. men b. animals c. women d. birds

Q. 17. Find the suitable verb to fill in the blank.
Children playing in the ground.
a. is b. are c. am d. was

Q. 18. Find the suitable preposition.
Mithu is writing a letter a pen.
a. by b. with c. at d. on

Q. 19. 'Sohan eats an apple.'
This sentence can be written in the **past** form as
a. Sohan was eating an apple.
b. Sohan were eating an apple.
c. Sohan ate an apple.
d. Sohan had been eating an apple.

Q. 20. Gopal is very intelligent.
Find the similar word of **intelligent**.
a. brave b. wise c. hard working d. simple

गणित

प्रश्न 21. 8 हजार नवासी को अंकों मे कैसे लिखते हैं?
a. 8889 b. 8879 c. 8089 d. 8079

प्रश्न 22. 40 को 25 से गुणा करने से प्राप्त संख्या कितने अंकों की होगी?
a. 3 b. 4 c. 5 d. 6

प्रश्न 23. $1 - \frac{1}{4} = \dots\dots\dots$ खाली स्थान में क्या होगा?
a. $\frac{1}{4}$ b. $\frac{2}{4}$ c. $\frac{3}{4}$ d. 1

प्रश्न 24. पैटर्न को पूरा करने के लिए खाली स्थान में क्या भरना होगा?

1	4	8	13
---	---	---	----	-------

- a. 16 b. 17 c. 18 d. 19

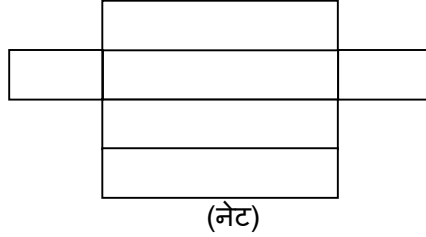
प्रश्न 25. कौन-सा समय 15 बजकर 35 मिनट को दर्शाता है?

- a. 3:25 AM b. 3:35 AM c. 3:35 PM d. 3:25 PM

प्रश्न 26. एक दुकानदार 24 अंडे 120 ₹ में बेचता है, जबकि दूसरा दुकानदार 60 अंडे 300 ₹ में बेचता है। बताइए, कौन -सा कथन सही है?

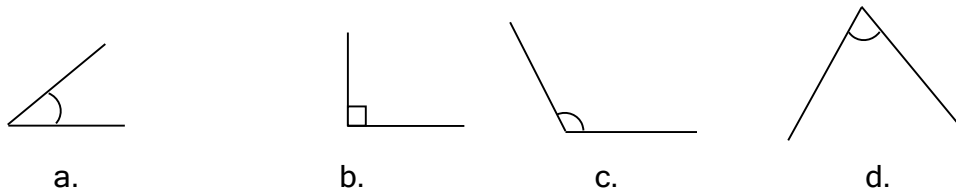
- a. पहला दुकानदार, दूसरे से कम कीमत पर अंडे बेचता है।
b. दूसरा दुकानदार, पहले से कम कीमत पर अंडे बेचता है।
c. दोनों दुकानदार समान कीमत पर अंडे बेचते हैं। ।
d. ज्यादा अंडे खरीदने पर कीमत कम हो जाती है।

प्रश्न 27. दिए गए नेट से कौन-सी आकृति बनेगी?



- a.  b.  c.  d. 

प्रश्न 28. नीचे दिये चित्र में कौन-सा चित्र अधिक कोण को दर्शाता है?



प्रश्न 29. $2\frac{1}{2}$ किलोग्राम वस्तु को तौलने के लिए कौन-सा बाट उपयोग करेंगे?

- a. 1 किलोग्राम का 1 बाट, 500 ग्राम का 2 बाट, 200 ग्राम का 2 बाट, 100 ग्राम का 1 बाट
b. 1 किलोग्राम का 1 बाट, 500 ग्राम का 1 बाट, 200 ग्राम का 3 बाट, 100 ग्राम का 2 बाट
c. 1 किलोग्राम का 1 बाट, 500 ग्राम का 1 बाट, 200 ग्राम का 2 बाट, 100 ग्राम का 1 बाट
d. 500 ग्राम का 2 बाट, 200 ग्राम का 3 बाट, 100 ग्राम का 2 बाट

प्रश्न 30. कक्षा पाँच में पढ़ने वाले 25 छात्रों द्वारा पसंद किए जाने वाले विषय को नीचे के टेबल में टैली मार्क द्वारा दर्शाया गया है।

विषय	टैली मार्क
अंग्रेजी	III
हिंदी	IIII IIII
गणित	IIII I
पर्यावरण विज्ञान	IIII II

बताइए, हिंदी और गणित पसंद करनेवाले छात्रों की संख्या क्या है?

- a. 13 b. 14 c. 15 d. 12

पर्यावरण अध्ययन

प्रश्न 31. तुरंत ऊर्जा प्राप्त के लिए किसी व्यक्ति को क्या लेना चाहिए?

- a. ग्लूकोज b. केला c. आइसक्रीम d. चाउमीन

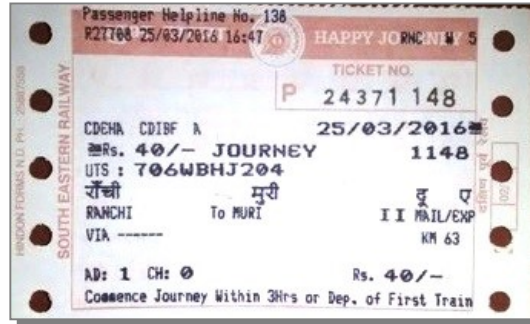
प्रश्न 32. लोहे पर किया जानेवाला पेंट इनमें से किसमें घुल जाएगा?

- a. पानी b. किरासन तेल c. नींबू का रस d. सभी में

प्रश्न 33. सोहन के पिताजी बाजार से आलू, गोभी, भिंडी और करेला खरीद कर लाए। सोहन इनमें से कौन-सी सब्जी बनवाएगा ताकि उसे बीज न मिले?

- a. भिंडी-आलू b. आलू-गोभी c. करेला-भिंडी d. गोभी-करेला

प्रश्न 34. यहाँ रेल के टिकट का एक चित्र दिया गया है। चित्र देखकर बताइए कि यात्री ने कितने रुपए किराया दिया है?



- a. 1148 b. 63 c. 40 d. 204

प्रश्न 35. निम्नलिखित वस्तुओं को मिट्टी में दबाया गया। कुछ वर्षों बाद उन्हें खोद कर देखा गया। किस वस्तु में सबसे कम परिवर्तन पाया जाएगा?

- a. संतरे के छिलके b. पेपर प्लेट c. प्लास्टिक कप d. कपड़े का थैला

प्रश्न 36. एक मकान में एक आदमी बालू-सीमेंट से काम कर रहा था जबकि दूसरा आदमी पानी का पाइप लगा रहा था। रीना की माँ दोनों को अलग-अलग नाम से पुकार रही थी। आपके अनुसार दोनों का सही नाम क्या है?

- a. राजमिस्त्री और प्लम्बर
b. रेज़ा और कुली
c. मिस्त्री और बढ़ई
d. बिजली-मिस्त्री और प्लम्बर

प्रश्न 37. फूँक मारने से बजनेवाला यंत्र इनमें से कौन-सा है?

- a. सितार
b. गिटार
c. बीन
d. बैजो

प्रश्न 38. इनमें से किस की कमी के कारण अनीमिया होता है?

- a. तांबा
b. लोहा
c. क्लोरोफिल
d. सभी के कारण

प्रश्न 39. भूकंप क्या होता है?

- a. पृथ्वी का कंपन
b. नदी का कंपन
c. पेड़ का कंपन
d. इनमें से कोई नहीं

प्रश्न 40. दिए गए मानचित्र में भारत का कौन-सा शहर पश्चिमी भाग में है।



- a. दिल्ली
b. कोलकाता
c. चेन्नई
d. गांधीनगर
